


# प्रश्न पुस्तिका / QUESTION BOOKLET

पुस्तिका में पृष्ठों की संख्या / Number of Pages in Booklet : 24	
पुस्तिका में प्रश्नों की संख्या / Number of Questions in Booklet : 150	
अवधि / Duration : 3.00 घंटे / Hours	पूर्णांक / Maximum Marks : 300
<h1>131C</h1> 	

प्रश्न पुस्तिका क्रमांक  
Question Booklet Number

## INSTRUCTIONS

1. Please correctly fill your Roll Number in O.M.R. Sheet. Candidate will himself be responsible for filling wrong Roll No.
  2. At the start of the examination, before attempting the question paper kindly check your test booklet and O.M.R. Answer Sheet and ensure that:
    - \* The serial numbers of test booklet and O.M.R. answer sheet are same.
    - \* All pages of test booklet and O.M.R. answer sheet are properly printed. All questions from S. No. 1 to last S. No. 150 are printed and pages from S. No. 1 to last S. No. 24 are there in the question booklet.
- In case of any discrepancy/defect the candidate should immediately report the matter to the invigilator for replacement of test booklet and O.M.R answer sheet. No claim/objection in this regard will be entertained after five minutes of start of examination. Candidate will be liable for it.
3. Answer all questions.
  4. All questions carry equal marks.
  5. Only one answer is to be given for each question.
  6. If more than one answers are marked, it would be treated as wrong answer.
  7. There is no Negative marking.
  8. Each question has four alternative responses marked serially as (A), (B), (C), (D). Candidate has to darken only one circle or bubble indicating the correct answer on the Answer Sheet using **BLUE BALL POINT PEN**.
  9. Use of Mobile Phone/ Bluetooth Devices or any other electronic gadget in the examination hall is strictly prohibited. If any such prohibited material is found with any candidate, strict action will be taken by the Board against him/her as per rule.
  10. If there is any sort of ambiguity/mistake either of printing or factual nature in Hindi and English version of the question, the English version will be treated as standard.

**Warning** : If a candidate is found copying or if any unauthorized material is found in his/her possession, F.I.R. would be lodged against him/her in the Police Station and he/she would be liable to be prosecuted under Section 3 of the **State Prevention of Unfair Means Act, 1992** and Board Regulations. Board may also debar him/her permanently from all future examinations of the Board.

## निर्देश

1. कृपया अपना रोल नम्बर ओ.एम.आर. पत्रक पर सावधानीपूर्वक सही भरें। गलत रोल नंबर भरने पर परीक्षार्थी स्वयं उत्तरदायी होगा।
  2. प्रश्न-पत्र हल करने से पूर्व, परीक्षा प्रारम्भ होते ही प्रश्न-पत्र पुस्तिका एवं ओ.एम.आर. उत्तर-पत्रक की भली-भाँति जाँच कर यह सुनिश्चित कर लें कि:
    - \* प्रश्न-पत्र पुस्तिका एवं ओ.एम.आर. उत्तर-पत्रक के क्रमांक एक समान हैं।
    - \* प्रश्न-पत्र पुस्तिका एवं ओ.एम.आर. उत्तर-पत्रक के सभी पृष्ठ सही छपे हुए हैं। प्रश्न-पत्र पुस्तिका में प्रश्न सं. 1 से अन्तिम क्रमांक 150 तक सभी प्रश्न क्रमवार मुद्रित हैं एवं सभी पृष्ठ क्रमवार 1 से 24 तक मौजूद हैं।
- किसी भी प्रकार की विसंगति होने या दोषपूर्ण होने पर प्रश्न-पत्र पुस्तिका एवं ओ.एम.आर. उत्तर-पत्रक का दूसरा लिफाफा अभिजागर से प्राप्त कर लें। परीक्षा प्रारम्भ होने के 5 मिनट के पश्चात् ऐसी स्थिति में किसी दावे/आपत्ति पर कोई विचार नहीं किया जावेगा। उसमें समस्त जिम्मेदारी अभ्यर्थी की होगी।
3. सभी प्रश्नों के उत्तर दीजिए।
  4. सभी प्रश्नों के अंक समान हैं।
  5. प्रत्येक प्रश्न का केवल एक ही उत्तर दीजिए।
  6. एक से अधिक उत्तर देने की दशा में प्रश्न के उत्तर को गलत माना जावेगा।
  7. ऋणात्मक अंक देय नहीं है।
  8. प्रत्येक प्रश्न के चार वैकल्पिक उत्तर दिए गए हैं, जिन्हें क्रमशः (A), (B), (C), (D) अंकित किया गया है। अभ्यर्थी को सही उत्तर निर्दिष्ट करते हुए उनमें से केवल एक गोले अथवा बबल को उत्तर-पत्रक पर **नीले बॉल प्वाइंट पेन** से गहरा करना है।
  9. मोबाइल फोन/ ब्लूटूथ डिवाइस अथवा इलेक्ट्रॉनिक यंत्र का परीक्षा हॉल में प्रयोग पूर्णतया वर्जित है। यदि किसी अभ्यर्थी के पास ऐसी कोई वर्जित सामग्री मिलती है, तो उसके विरुद्ध बोर्ड द्वारा नियमानुसार कठोर कार्यवाही की जावेगी।
  10. यदि किसी प्रश्न के हिन्दी एवं अंग्रेजी रूपान्तरों में किसी प्रकार की कोई मुद्रण या तथ्यात्मक प्रकार की त्रुटि हो, तो प्रश्न का अंग्रेजी रूपान्तरण मान्य होगा।

**चेतावनी** : अगर कोई अभ्यर्थी नकल करते पकड़ा जाता है या उसके पास से कोई अनधिकृत सामग्री पाई जाती है, उस अभ्यर्थी के विरुद्ध पुलिस में प्राथमिकी दर्ज कराई जायेगी और **राज्य अनुचित साधनों की रोकथाम अधिनियम, 1992** की धारा 3 एवं बोर्ड रेग्यूलेशन के तहत कार्यवाही की जावेगी। साथ ही बोर्ड ऐसे अभ्यर्थी को भविष्य में होने वाली बोर्ड की समस्त परीक्षाओं से विवर्जित कर सकता है।

इस परीक्षा पुस्तिका को तब तक न खोलें जब तक कहा न जाए/ Do not open this test booklet until you are asked to do so.

1. Which of the following pair (Political Activist – Related Princely state) is not correctly matched?  
 (A) Mithalal Vyas – Jaisalmer  
 (B) Bhupendranath Trivedi – Kota  
 (C) Kishanlal Joshi – Bharatpur  
 (D) Pandit Harinarayan Sharma – Alwar
  2. Two statements are given below, one labelled as Assertion (A) and the other as Reason (R) –  
**Assertion (A)** : Dadabhai Naoroji founded East India Association in London.  
**Reason (R)** : He wanted to influence the British Public Opinion.  
 In the context of the above two statements, which one of the following is correct?  
 (A) (A) is true but (R) is false  
 (B) (R) is true but (A) is false  
 (C) Both (A) and (R) are true but (R) is not the correct explanation of (A)  
 (D) Both (A) and (R) are true and (R) is correct explanation of (A)
  3. Who was the Ruler of Bikaner who supported the British through his army for suppressing Revolt of 1857?  
 (A) Sardar Singh                      (B) Ratan Singh  
 (C) Ganga Singh                      (D) Dungan Singh
  4. Under whose leadership, thousands of women participated in the conference held at Katrathal on 25<sup>th</sup> April, 1934?  
 (A) Rama Devi                      (B) Uttama Devi  
 (C) Kishori Devi                      (D) Durga Devi
  5. Who among the following leader was in the Independence Movement in Bharatpur state?  
 (A) Tikaram Paliwal                      (B) Kishan Lal Joshi  
 (C) Mangal Singh                      (D) Shobha Ram Sharma
  6. Who brought about a compromise between Muslim League and Congress, in 1916?  
 (A) Annie Besant                      (B) Surendranath Banerjee  
 (C) Bal Gangadhar Tilak                      (D) Gopal Krishna Gokhale
1. निम्नलिखित में से कौन सा युग्म (राजनीतिक कार्यकर्ता – संबंधित रियासती राज्य) सुमेलित नहीं है?  
 (A) मीठालाल व्यास – जैसलमेर  
 (B) भूपेन्द्रनाथ त्रिवेदी – कोटा  
 (C) किशनलाल जोशी – भरतपुर  
 (D) पंडित हरिनारायण शर्मा – अलवर
  2. नीचे दो कथन दिए गए हैं, एक को अभिकथन (A) और दूसरे को कारण (R) कहा गया है –  
**अभिकथन (A)** : दादाभाई नौरोजी ने लंदन में ईस्ट इंडिया एसोसिएशन की स्थापना की।  
**कारण (R)** : वह ब्रिटिश जनमत को प्रभावित करना चाहते थे।  
 उपरोक्त दो कथनों के संदर्भ में, निम्नलिखित में से कौनसा एक सही है?  
 (A) (A) सत्य है लेकिन (R) असत्य है  
 (B) (R) सत्य है लेकिन (A) असत्य है  
 (C) दोनों (A) और (R) सत्य हैं लेकिन (R), (A) की सही व्याख्या नहीं करता है  
 (D) दोनों (A) और (R) सत्य हैं और (R), (A) की सही व्याख्या करता है
  3. 1857 की क्रांति को दबाने के लिए, बीकानेर के किस शासक ने अंग्रेजों को सैन्य सहायता दी?  
 (A) सरदार सिंह                      (B) रतन सिंह  
 (C) गंगा सिंह                      (D) डूंगर सिंह
  4. किसके नेतृत्व में, 25 अप्रैल, 1934, को कटराथल में आयोजित विशाल महिला सम्मेलन में हजारों महिलाओं ने भाग लिया?  
 (A) रमा देवी                      (B) उत्तमा देवी  
 (C) किशोरी देवी                      (D) दुर्गा देवी
  5. भरतपुर राज्य के स्वतंत्रता आंदोलन में निम्न में से कौन एक नेता थे?  
 (A) टीकाराम पालीवाल                      (B) किशन लाल जोशी  
 (C) मंगलसिंह शर्मा                      (D) शोभा राम
  6. 1916 में, मुस्लिम लीग और कांग्रेस के बीच समझौता किसने करवाया था?  
 (A) एनी बेसेंट                      (B) सुरेन्द्रनाथ बनर्जी  
 (C) बाल गंगाधर तिलक                      (D) गोपाल कृष्ण गोखले

7. Which leader of the Marwar Lok Parishad died in June 19, 1942 due to hunger strike against injustice in Jail?  
 (A) Ranchod Das (B) Anand Raj Surana Gattani  
 (C) Bhanwar Lal (D) Bal Mukund Bissa Sharma
8. Morley – Minto reforms were aimed at –  
 (1) Promotion of education  
 (2) Reserved seats in Provincial Assembly for Dalits  
 (3) Separate electorates for Muslims  
 (4) Increase in the number of members in Legislative Council at Centre  
 Select the correct answer from the code given below -  
 (A) 1, 2 and 3 (B) Only 2  
 (C) Only 3 (D) 1, 2, 3 and 4
9. Who among the following was the author of the book 'Jaisalmer Ka Gundaraj'?  
 (A) Sagarmal Gopa (B) Hiralal Shastri  
 (C) Jai Narayan Vyas (D) Manikya Lal Verma
10. Which among the following is related to Lord Curzon?  
 (A) Indian Council Act, 1892  
 (B) Universities Act, 1920  
 (C) Partition of Bengal in 1905  
 (D) Government of India Act, 1909
11. Saint Haridas was the founder of ..... sect.  
 (A) Nimbarka (B) Alakhiya  
 (C) Niranjani (D) Ramsnehi
12. Who among the following is not a master of Maand singing?  
 (A) Allah Jilai Bai (B) Gavari Bai  
 (C) Gulabo (D) Banno Begam
13. In which of the following tribes, the marriages named Tanna and Mor Bandhiya are prevalent?  
 (A) Sansi (B) Meena  
 (C) Bhil (D) Garasia
7. जेल में अन्याय के खिलाफ भूख हड़ताल के कारण मारवाड़ लोक परिषद के किस नेता की मृत्यु 19 जून, 1942 को हुई?  
 (A) रणछोड़दास गट्टानी (B) आनंद राज सुराणा  
 (C) भंवर लाल शर्मा (D) बाल मुकुंद बिस्सा
8. मॉर्ले – मिंटो सुधारों का उद्देश्य था –  
 (1) शिक्षा को बढ़ावा  
 (2) प्रांतीय विधानसभा में दलितों के लिए आरक्षित सीटें  
 (3) मुसलमानों के लिए अलग निर्वाचक मंडल  
 (4) केन्द्रीय विधान परिषद में सदस्यों की संख्या में बढ़ोत्तरी  
 नीचे दिए गए कूट में से सही उत्तर का चयन कीजिए –  
 (A) 1, 2 एवं 3 (B) केवल 2  
 (C) केवल 3 (D) 1, 2, 3 एवं 4
9. 'जैसलमेर का गुंडाराज' पुस्तक के लेखक निम्न में से कौन थे?  
 (A) सागरमल गोपा (B) हीरालाल शास्त्री  
 (C) जयनारायण व्यास (D) माणिक्यलाल वर्मा
10. निम्नलिखित में से क्या लॉर्ड कर्जन से संबंधित है?  
 (A) भारतीय परिषद अधिनियम, 1892  
 (B) विश्वविद्यालय अधिनियम, 1920  
 (C) 1905 का बंगाल का विभाजन  
 (D) भारत सरकार अधिनियम, 1909
11. संत हरिदास ..... सम्प्रदाय के संस्थापक थे।  
 (A) निम्बार्क (B) अलखिया  
 (C) निरंजनी (D) रामस्नेही
12. इनमें से कौन मांड गायन में सिद्धहस्त नहीं है?  
 (A) अल्लाह जिलाई बाई (B) गवरी बाई  
 (C) गुलाबो (D) बन्नो बेगम
13. ताणना एवं मोर बंधिया विवाह, निम्न में से किस जनजाति में प्रचलित हैं?  
 (A) सांसी (B) मीणा  
 (C) भील (D) गरासिया

14. In which of the following, the archaeological remains related to Buddhism are found?  
 (A) Bairath (Virat Nagar) (B) Madhyamika (Nagari)  
 (C) Naliyasar (Sambhar) (D) Raidh (Tonk)
15. Where is Lok Kala Mandir located?  
 (A) Jodhpur (B) Kota  
 (C) Udaipur (D) Ajmer
16. The author of 'Beli Krishan Rukmani Ri', was the court poet of which ruler?  
 (A) Vighararaja IV (B) Maharana Kumbha  
 (C) Akbar (D) Shah Jahan
17. Gopal Saini is related to which handicraft of Rajasthan?  
 (A) Terracotta (B) Blue Pottery  
 (C) Wood Art (D) Theva Art
18. In Rajasthan, where is the first Tribal Child Hockey Academy established?  
 (A) Dungarpur (B) Kota  
 (C) Udaipur (D) Bhilwara
19. According to Col. Tod, Meena's originally belong to which of these places?  
 (A) Abu Mountain ranges (B) Kali Khoh Mountain ranges  
 (C) Mukundara Hills (D) Kali Ghati Mountain ranges
20. Who has built the Shiv Temple of Badoli (Kota)?  
 (A) Toramana (B) Mihirkula  
 (C) Bhoj Parmar (D) Bhoj Pratihar
21. "Illa na deni, aapni, halriya hulraaye.  
 Poot sikhave palne, maran badai maaye."  
 The above lines are taken from which book?  
 (A) Vansh Bhaskar (B) Veer Satsai  
 (C) Kanhad-de-Prabandh (D) Prithviraj Raso
14. निम्नलिखित में से, बौद्ध धर्म से सम्बन्धित पुरातात्विक अवशेष कहाँ मिले हैं?  
 (A) बैराठ (विराट नगर) (B) माध्यमिका (नगरी)  
 (C) नलियासर (सांभर) (D) रैढ (टोंक)
15. लोक कला मन्दिर कहाँ स्थित है?  
 (A) जोधपुर (B) कोटा  
 (C) उदयपुर (D) अजमेर
16. 'बेली क्रिशन रुकमणी री' के रचयिता, किस शासक के दरबारी कवि थे?  
 (A) विग्रहराज चतुर्थ (B) महाराणा कुम्भा  
 (C) अकबर (D) शाहजहाँ
17. गोपाल सैनी का सम्बन्ध राजस्थान की किस हस्तकला से है?  
 (A) टैराकोटा (B) ब्ल्यू पॉटरी  
 (C) काष्ठ कला (D) थेवा कला
18. राजस्थान की पहली जनजाति बालक हॉकी अकादमी कहाँ स्थापित की गई है?  
 (A) डूंगरपुर में (B) कोटा में  
 (C) उदयपुर में (D) भीलवाड़ा में
19. कर्नल टॉड के अनुसार, मीणाओं का मूल निवास स्थान निम्न में से कौन सा था?  
 (A) आबू पर्वतमाला (B) काली खोह पर्वतमाला  
 (C) मुकुन्दरा पर्वत श्रेणी (D) काली घाटी पर्वतमाला
20. बडोली (कोटा) के शिव मन्दिर का निर्माण किसने करवाया?  
 (A) तोरमाण (B) मिहिरकुल  
 (C) भोज परमार (D) भोज प्रतिहार
21. "इला न देणी, आपणी, हालरिया हुलराय।  
 पूत सिखावे पालणै, मरण बड़ाई माय ॥"  
 उपर्युक्त पंक्तियाँ किस ग्रन्थ से ली गई हैं?  
 (A) वंश भास्कर (B) वीर सतसई  
 (C) कान्हड़दे प्रबन्ध (D) पृथ्वीराज रासो

22. Match the following –
- | <u>Folk Deity</u> | <u>Birth place</u> |
|-------------------|--------------------|
| (1) Gogaji        | (i) Santhu         |
| (2) Pabuji        | (ii) Dadreva       |
| (3) Hadbuji       | (iii) Kohu         |
| (4) Fattaji       | (iv) Bhundol       |
- Code -
- (A) 1-i, 2-ii, 3-iii, 4-iv (B) 1-ii, 2-iii, 3-iv, 4-i  
(C) 1-iv, 2-ii, 3-iii, 4-i (D) 1-iii, 2-i, 3-ii, 4-iv
23. Which (Cattle fair and District) is not correctly matched?
- (A) Chandrabhaga Cattle Fair – Jhalawar  
(B) Gogamedi Cattle Fair – Hanumangarh  
(C) Shivratri Cattle Fair – Sawai Madhopur  
(D) Ramdev Cattle Fair – Nagaur
24. Which writer named the books after the name of Bikaner Maharaja Anoop Singh?
- (A) Bhav Bhatta (B) Lochan  
(C) Hriday Narayan (D) Pundrik Vitthal Dev
25. Which of the following statement is not true about 'Kalibangan Civilization'?
- (A) Camel bones have been discovered at Kalibangan.  
(B) Kalibangan has provided evidence of the first recorded earthquake.  
(C) Luigi Pio Tessitori, an Italian Indologist found the Kalibangan site.  
(D) Pre Harappan fire altars have been discovered.
26. Who is famous with the name of Narsingh in Rajasthan?
- (A) Sant Ramcharanji (B) Kavi Durlabhji  
(C) Sant Charandas ji (D) Sant Rajjab ji
27. Which song of goddess was sung by the 'Kanfate Jogi' with Damru and Sarangi?
- (A) Jeen Mata (B) Nagnechi Mata  
(C) Sheetala Mata (D) Sakrai Mata
28. What is the name of the cremation site of Mewar royal family?
- (A) Kaga (B) Gatore  
(C) Mahasatya (D) Bada Bagh
22. सुमेलित कीजिए –
- | <u>लोक देवता</u> | <u>जन्म स्थान</u> |
|------------------|-------------------|
| (1) गोगाजी       | (i) सांथू         |
| (2) पाबूजी       | (ii) ददरेवा       |
| (3) हड़बूजी      | (iii) कोहू        |
| (4) फत्ताजी      | (iv) भूंडोल       |
- कूट –
- (A) 1-i, 2-ii, 3-iii, 4-iv (B) 1-ii, 2-iii, 3-iv, 4-i  
(C) 1-iv, 2-ii, 3-iii, 4-i (D) 1-iii, 2-i, 3-ii, 4-iv
23. कौन-सा (पशु मेला और जिला) सही सुमेलित नहीं है?
- (A) चन्द्रभागा पशुमेला – झालावाड़  
(B) गोगामेडी पशुमेला – हनुमानगढ़  
(C) शिवरात्रि पशुमेला – सवाई माधोपुर  
(D) रामदेव पशुमेला – नागौर
24. किस ग्रन्थकार ने अपने ग्रन्थों का नाम बीकानेर महाराजा अनूप सिंह के नाम पर रखा था?
- (A) भाव भट्ट (B) लोचन  
(C) हृदय नारायण देव (D) पुण्डरिक विट्ठल
25. निम्नलिखित में से कौन सा कथन 'कालीबंगा सभ्यता' के विषय में सही नहीं है?
- (A) कालीबंगा से ऊँट की हड्डियों के साक्ष्य मिले हैं।  
(B) कालीबंगा से प्रथम अंकित किए गए भूकंप के साक्ष्य मिले हैं।  
(C) कालीबंगा की खोज एक इतालवी इंडोलॉजिस्ट लुइगी पियो टेसिटोरी ने की थी।  
(D) प्राक् हड़प्पा अग्निवेदियों के साक्ष्य मिले हैं।
26. राजस्थान में नरसिंह के नाम से प्रसिद्ध हैं –
- (A) संत रामचरणजी (B) कवि दुर्लभजी  
(C) संत चरणदासजी (D) संत रज्जब जी
27. 'कनफटे जोगी' डमरू एवं सारंगी वाद्य यंत्रों के साथ किस देवी के गीत गाते हैं?
- (A) जीण माता (B) नागणेची माता  
(C) शीतला माता (D) सकराय माता
28. मेवाड़ राज घराने के अन्त्येष्टि स्थल का नाम क्या है?
- (A) कागा (B) गेटोर  
(C) महासत्य (D) बड़ा बाग

29. Which of the following region of Rajputana was ruled by the Varik dynasty?  
 (A) Badnaur (B) Bayana  
 (C) Alwar (D) Ajmer
30. Which one of the following (Folk drama - Place) is not matched correctly?  
 (A) Nautanki – Bharatpur, Dholpur  
 (B) Tamasha – Jaipur  
 (C) Turra Kalangi – Marwar  
 (D) Rammat – Bikaner, Jaisalmer
31. Ognia, Angotia, Surliya ornaments are worn -  
 (A) on head (B) on wrist  
 (C) in ears (D) on feet
32. When did Maharana Pratap make Chavand his capital?  
 (A) 1580 (B) 1576  
 (C) 1582 (D) 1585
33. To which age does the artistic splendour of Abhaneri and Rajoregarh belong?  
 (A) Gurjar - Pratihara (B) Chauhan  
 (C) Guhil - Sisodia (D) Rathore
34. Who wrote the book named 'Hamir Hath' ?  
 (A) Jodhraj (B) Chandrashekhar  
 (C) Dalpat (D) Keshavdev
35. From the following battles, choose the correct order from first to last according to the year they were fought –  
 (1) Battle of Gagraon  
 (2) Battle of Sarangpur  
 (3) Battle of Bayana  
 (4) Battle of Mavli  
 Choose the correct option -  
 (A) 2, 4, 3, 1 (B) 2, 1, 3, 4  
 (C) 1, 2, 3, 4 (D) 1, 3, 2, 4
36. The first UDAY (Utkrisht Double Decker Air-Conditioned Yatri) Express train runs between -  
 (A) Delhi and Kalka  
 (B) Bengaluru and Coimbatore  
 (C) Chennai and Visakhapatnam  
 (D) Visakhapatnam and Vijayawada
29. निम्नलिखित में से राजपूताना के किस क्षेत्र पर वरीक वंश ने शासन किया था?  
 (A) बदनौर (B) बयाना  
 (C) अलवर (D) अजमेर
30. निम्नलिखित में से कौन सा (लोक नाट्य – स्थान) सुमेलित नहीं है?  
 (A) नौटंकी – भरतपुर, धौलपुर  
 (B) तमाशा – जयपुर  
 (C) तुर्रा कलंगी – मारवाड़  
 (D) रम्मत – बीकानेर, जैसलमेर
31. ओगनिया, अंगोटिया, सुरलिया, आभूषण पहने जाते हैं –  
 (A) सिर पर (B) कलाई पर  
 (C) कानों में (D) पैरों में
32. महाराणा प्रताप ने चावण्ड को अपनी राजधानी कब बनाया था?  
 (A) 1580 (B) 1576  
 (C) 1582 (D) 1585
33. आभानेरी तथा राजौरगढ़ के कलात्मक वैभव किस काल से सम्बन्धित हैं?  
 (A) गुर्जर – प्रतिहार (B) चौहान  
 (C) गुहिल – सिसोदिया (D) राठौड़
34. 'हमीर हठ' नामक ग्रन्थ किसने लिखा?  
 (A) जोधराज (B) चन्द्रशेखर  
 (C) दलपत (D) केशवदेव
35. निम्नलिखित युद्धों में से, उनके लड़े जाने के वर्ष के अनुसार पहले से आखिरी तक सही क्रम को चुनिए -  
 (1) गागरोन का युद्ध  
 (2) सारंगपुर का युद्ध  
 (3) बयाना का युद्ध  
 (4) मावली का युद्ध  
 सही विकल्प चुनें –  
 (A) 2, 4, 3, 1 (B) 2, 1, 3, 4  
 (C) 1, 2, 3, 4 (D) 1, 3, 2, 4
36. प्रथम उदय (उत्कृष्ट डबल डेकर वातानुकूलित यात्री) एक्सप्रेस ट्रेन किसके बीच चलती है?  
 (A) दिल्ली और कालका  
 (B) बेंगलुरु और कोयंबटूर  
 (C) चेन्नई और विशाखापट्टनम  
 (D) विशाखापट्टनम और विजयवाड़ा

37. Malaj Khand is associated with which mineral production?  
 (A) Lignite (B) Copper  
 (C) Iron Ore (D) Diamond
38. National Bank for Agriculture and Rural Development (NABARD) was established on -  
 (A) 12<sup>th</sup> July, 1986 (B) 12<sup>th</sup> July, 1978  
 (C) 12<sup>th</sup> July, 1982 (D) 12<sup>th</sup> July, 1992
39. Which among the following (State – Coal region) is correctly matched?  
 (A) Madhya Pradesh – Ramgarh (B) Odisha – Sambalpur  
 (C) West Bengal – Betul (D) Jharkhand – Sarguja
40. Which one of the following is the correct descending order of the coffee producing states of India?  
 (A) Karnataka > Kerala > Andhra Pradesh > Tamil Nadu  
 (B) Karnataka > Tamil Nadu > Kerala > Andhra Pradesh  
 (C) Karnataka > Kerala > Tamil Nadu > Andhra Pradesh  
 (D) Andhra Pradesh > Tamil Nadu > Kerala > Karnataka
41. Vedanthangal Bird Sanctuary is situated at -  
 (A) Karnataka (B) Kerala  
 (C) Tamil Nadu (D) Andhra Pradesh
42. As on August 2022, how many declared wetlands are there in India?  
 (A) 72 (B) 75  
 (C) 48 (D) 41
43. Which type of forests are found in western slopes of the Western Ghat?  
 (A) Alpine (B) Savanna  
 (C) Tropical Evergreen (D) Monsoon
44. Which state of India has highest potentiality of wind energy?  
 (A) Gujarat (B) Tamil Nadu  
 (C) Rajasthan (D) Karnataka
45. On which river is the Salal Project located?  
 (A) Chenab (B) Ravi  
 (C) Vyas (D) Jhelum
37. मलाज खण्ड किस खनिज उत्पादन से संबंधित है?  
 (A) लिग्नाइट (B) तांबा  
 (C) लौह अयस्क (D) हीरा
38. राष्ट्रीय कृषि और ग्रामीण विकास बैंक (नाबार्ड) की स्थापना हुई थी—  
 (A) 12 जुलाई, 1986 को (B) 12 जुलाई, 1978 को  
 (C) 12 जुलाई, 1982 को (D) 12 जुलाई, 1992 को
39. निम्नलिखित में से कौनसा (राज्य – कोयला क्षेत्र) सही सुमेलित है?  
 (A) मध्यप्रदेश – रामगढ़ (B) ओडिशा – सम्बलपुर  
 (C) पश्चिम बंगाल – बेटूल (D) झारखंड – सरगुजा
40. भारत में कॉफी उत्पादक राज्यों का निम्नलिखित में से सही घटता हुआ क्रम कौनसा है?  
 (A) कर्नाटक > केरल > आंध्र प्रदेश > तमिलनाडु  
 (B) कर्नाटक > तमिलनाडु > केरल > आंध्र प्रदेश  
 (C) कर्नाटक > केरल > तमिलनाडु > आंध्र प्रदेश  
 (D) आंध्र प्रदेश > तमिलनाडु > केरल > कर्नाटक
41. वेदान्थांगल पक्षी अभ्यारण्य स्थित है –  
 (A) कर्नाटक में (B) केरल में  
 (C) तमिलनाडु में (D) आंध्र प्रदेश में
42. अगस्त 2022 की स्थिति के अनुसार, भारत में कितनी घोषित आर्द्र भूमियाँ हैं?  
 (A) 72 (B) 75  
 (C) 48 (D) 41
43. पश्चिमी घाट के पश्चिमी ढालों पर किस प्रकार के वन पाए जाते हैं?  
 (A) अल्पाइन (B) सवाना  
 (C) उष्णकटिबंधीय सदाबहार (D) मॉनसूनी
44. भारत के किस राज्य में पवन ऊर्जा की सर्वाधिक क्षमता विद्यमान है?  
 (A) गुजरात (B) तमिलनाडु  
 (C) राजस्थान (D) कर्नाटक
45. सलाल परियोजना किस नदी पर स्थित है?  
 (A) चिनाब (B) रावी  
 (C) व्यास (D) झेलम

46. Ratanada airport provides services to -  
 (A) Jodhpur (B) Kota  
 (C) Bikaner (D) Udaipur
47. As per Census – 2011, the district having least rural sex ratio in Rajasthan was -  
 (A) Jaisalmer (B) Dholpur  
 (C) Tonk (D) Barmer
48. The construction of Bisalpur Dam was completed in which year?  
 (A) 1989 (B) 1992  
 (C) 1996 (D) 1999
49. Which river basin of Rajasthan is in second position in terms of water availability?  
 (A) Banas Basin (B) Mahi Basin  
 (C) Luni Basin (D) Sabarmati Basin
50. **Assertion (A):** Teak trees are mostly found in southern part of Rajasthan.  
**Reason (R):** The teak can bear extreme cold and frost.  
 (A) Both (A) and (R) are true but (R) is not the correct explanation of (A)  
 (B) (A) is false but (R) is true  
 (C) (A) is true but (R) is false  
 (D) Both (A) and (R) are true and (R) is the correct explanation of (A)
51. In which part of Rajasthan the 'Entisols' soil is found?  
 (A) Western (B) Southern  
 (C) South Eastern (D) Eastern
52. Which (Mineral – Mining Area) is not correctly matched?  
 (A) Dolomite - Bajla-Kabra  
 (B) Fluorite - Mando-Ki-Pal  
 (C) Lead & Zinc - Rampura-Agucha  
 (D) Rock phosphate - Barodia
53. Akal Wood Fossil Park is located in which of the following district?  
 (A) Jaisalmer (B) Bundi  
 (C) Pali (D) Rajsamand
54. Giral lignite thermal power project is located in which village?  
 (A) Samdari (Barmer) (B) Ramsar (Ajmer)  
 (C) Thumbli Village (D) Sivana (Jalore)  
 (Barmer)
46. रातानाडा हवाईअड्डा अपनी सेवायें उपलब्ध कराता है -  
 (A) जोधपुर को (B) कोटा को  
 (C) बीकानेर (D) उदयपुर को
47. जनगणना-2011 के अनुसार, राजस्थान में जिस जिले में ग्रामीण लिंगानुपात सबसे कम था, वह है -  
 (A) जैसलमेर (B) धौलपुर  
 (C) टोंक (D) बाड़मेर
48. बीसलपुर बाँध का निर्माण किस वर्ष में पूर्ण हुआ?  
 (A) 1989 (B) 1992  
 (C) 1996 (D) 1999
49. जल उपलब्धता के आधार पर कौन सा नदी बेसिन राजस्थान में द्वितीय स्थान पर है?  
 (A) बनास बेसिन (B) माही बेसिन  
 (C) लूनी बेसिन (D) साबरमती बेसिन
50. **कथन (A):** राजस्थान के दक्षिणी क्षेत्रों में सागवान के वृक्ष अधिक पाये जाते हैं।  
**कथन (R):** सागवान अधिक सर्दी व पाला सहन कर पाता है।  
 (A) (A) और (R) दोनों सही हैं किंतु (R), (A) की सही व्याख्या नहीं है  
 (B) (A) गलत है लेकिन (R) सही है  
 (C) (A) सही है लेकिन (R) गलत है  
 (D) (A) और (R) दोनों सही हैं एवं (R), (A) की सही व्याख्या है
51. राजस्थान के किस भाग में 'एण्टीसोल्स' मृदा पायी जाती है?  
 (A) पश्चिमी (B) दक्षिणी  
 (C) दक्षिण पूर्वी (D) पूर्वी
52. कौन सा (खनिज-खनन क्षेत्र) सुमेलित नहीं है?  
 (A) डोलोमाइट - बाजला-काबरा  
 (B) फ्लोराइट - मांडो-की-पाल  
 (C) सीसा और जस्ता - रामपुरा-अगुचा  
 (D) रॉक फॉस्फेट - बरोडिया
53. आकल काष्ठ जीवाश्म उद्यान निम्न में से किस जिले में स्थित है?  
 (A) जैसलमेर (B) बून्दी  
 (C) पाली (D) राजसमंद
54. गिरल लिग्नाइट ताप शक्ति परियोजना किस गांव में स्थित है?  
 (A) समदड़ी (बाड़मेर) (B) रामसर (अजमेर)  
 (C) थुम्बली गांव (बाड़मेर) (D) सिवाणा (जालौर)



55. As per Koppen's climate classification, which type of climate is found in Dungarpur and Banswara district?  
 (A) BWhw (B) BShw  
 (C) Cwg (D) Aw
56. From which tree 'Katha' is extracted in Rajasthan?  
 (A) Khejri (B) Palas  
 (C) Khair (D) Dhok
57. Which among the following (River – Associated District) is not correctly matched?  
 (A) Dai - Ajmer (B) Banganga - Jaipur  
 (C) Kakni - Jaisalmer (D) Vatrak - Banswara
58. The major producing region of soybean in Rajasthan is -  
 (A) Semi-Arid (B) Hadoti Plateau  
 (C) Mahi Basin (D) Eastern Plains
59. Which are the highest population districts of Rajasthan, according to Census - 2011 (Descending order)?  
 (A) Jaipur-Jodhpur-Alwar-Nagaur  
 (B) Jaipur-Jodhpur-Nagaur-Alwar  
 (C) Jodhpur-Jaipur-Alwar-Nagaur  
 (D) Alwar-Jaipur-Nagaur-Jodhpur
60. Where in Rajasthan oil refinery is being established?  
 (A) Bikaner (B) Jalore  
 (C) Jaisalmer (D) Barmer
61. When was President Rule imposed in Rajasthan due to unclear majority in the Assembly Elections?  
 (A) 1977 (B) 1980  
 (C) 1967 (D) 1992
62. Who among the following is not in the Selection Committee of the Chairman and members of the Rajasthan State Human Rights Commission?  
 (A) Governor (B) Chief Minister  
 (C) Home Minister (D) Leader of the Opposition
55. कोपेन के जलवायु वर्गीकरण के अनुसार, डूंगरपुर और बांसवाड़ा जिलों में किस प्रकार की जलवायु पाई जाती है?  
 (A) BWhw (B) BShw  
 (C) Cwg (D) Aw
56. राजस्थान में किस वृक्ष से 'कत्था' निकाला जाता है?  
 (A) खेजड़ी (B) पलास  
 (C) खैर (D) धोक
57. निम्नलिखित में से कौनसा (नदी – सम्बन्धित जिला) सुमेलित नहीं है?  
 (A) दाई – अजमेर (B) बाणगंगा – जयपुर  
 (C) काकणी – जैसलमेर (D) वात्रक – बांसवाड़ा
58. राजस्थान में सोयाबीन उत्पादक प्रमुख क्षेत्र है –  
 (A) अर्द्ध शुष्क (B) हाड़ौती पठार  
 (C) माही बेसिन (D) पूर्वी मैदान
59. 2011 की जनगणना के अनुसार, राजस्थान के सर्वाधिक जनसंख्या वाले जिले हैं – (अवरोही क्रम)  
 (A) जयपुर-जोधपुर-अलवर-नागौर  
 (B) जयपुर-जोधपुर-नागौर-अलवर  
 (C) जोधपुर-जयपुर-अलवर-नागौर  
 (D) अलवर-जयपुर-नागौर-जोधपुर
60. राजस्थान में ऑयल रिफायनरी की स्थापना कहाँ की जा रही है?  
 (A) बीकानेर (B) जालौर  
 (C) जैसलमेर (D) बाड़मेर
61. विधान सभा चुनाव में अस्पष्ट बहुमत के कारण राजस्थान में राष्ट्रपति शासन कब लगाया गया था?  
 (A) 1977 (B) 1980  
 (C) 1967 (D) 1992
62. राजस्थान राज्य मानवाधिकार आयोग के अध्यक्ष एवं सदस्यों की चयन समिति में निम्नलिखित में कौन शामिल नहीं होता है?  
 (A) राज्यपाल (B) मुख्यमंत्री  
 (C) गृह मंत्री (D) विपक्ष का नेता

63. Which of the following statement is incorrect?  
 (A) Panchayat Extension to Scheduled Area (PESA) Act was implemented on 24<sup>th</sup> December 1996.  
 (B) The PESA Act was enacted on the recommendation of Dileep Singh Bhuria Committee.  
 (C) PESA Act is applied to 9 states of Schedule 5.  
 (D) One of the objectives of the Act is to protect and conserve the traditions and customs of tribal communities.
64. When was the Revenue Board established in Rajasthan?  
 (A) 1947 (B) 1949  
 (C) 1951 (D) 1955
65. Identify the Chairman of the Rajasthan State Human Rights Commission, who also served as the Judge of the Supreme Court of India?  
 (A) Kanta Kumari (B) Gopal Krishna Vyas Bhatnagar  
 (C) Saiyed Saghir Ahmad (D) Nagendra Kumar Jain
66. Which of the following statement is not true?  
 (A) Rajasthan can have 30 Ministers including the Chief Minister.  
 (B) All the Ministers of Rajasthan are Cabinet Ministers.  
 (C) Cabinet have important departments.  
 (D) Presently there is no Deputy Minister in the Government of Rajasthan.
67. Which of the following statement is not true?  
 (A) The post of District Collector was created by Warren Hastings in 1772.  
 (B) In district, the District Collector functions as Chief Protocol Officer.  
 (C) In Article 233 of the Indian Constitution, the word 'District Judge' has been mentioned.  
 (D) Ramsay MacDonald called the Collector as the Institutional Charisma.
63. निम्नांकित में से कौनसा कथन असत्य है?  
 (A) पंचायत अनुसूचित क्षेत्रों में विस्तार (पेसा, PESA) अधिनियम 24 दिसम्बर, 1996 को लागू हुआ।  
 (B) पेसा (PESA) अधिनियम, दिलीप सिंह भूरिया समिति की अनुशंसा पर बनाया गया।  
 (C) पेसा (PESA) अधिनियम, अनुसूची - 5 के 9 राज्यों में लागू है।  
 (D) इस अधिनियम का एक उद्देश्य जनजातीय समुदायों की परम्पराओं एवं रीति-रिवाजों की सुरक्षा एवं संरक्षण करना है।
64. राजस्थान में राजस्व मण्डल की स्थापना कब हुई?  
 (A) 1947 (B) 1949  
 (C) 1951 (D) 1955
65. राजस्थान राज्य मानवाधिकार आयोग के ऐसे अध्यक्ष को चिह्नित कीजिए, जो उच्चतम न्यायालय के न्यायाधीश भी रहे?  
 (A) कांता कुमारी भटनागर (B) गोपाल कृष्ण व्यास  
 (C) सैय्यद सगीर अहमद (D) नागेन्द्र कुमार जैन
66. निम्नलिखित में कौनसा कथन असत्य है?  
 (A) राजस्थान में मुख्यमंत्री सहित 30 मंत्री हो सकते हैं।  
 (B) राजस्थान के सभी मंत्री कैबिनेट मंत्री हैं।  
 (C) कैबिनेट में महत्वपूर्ण विभाग होते हैं।  
 (D) राजस्थान सरकार में वर्तमान में कोई भी उपमंत्री नहीं है।
67. निम्नलिखित में से कौनसा एक कथन सत्य नहीं है?  
 (A) सन् 1772 में, वॉरेन हेस्टिंग्स द्वारा जिला कलेक्टर का पद सृजित किया गया।  
 (B) जिले में, जिला कलेक्टर मुख्य प्रोटोकॉल अधिकारी का कार्य करता है।  
 (C) भारत के संविधान के अनुच्छेद 233 में 'जिला न्यायाधीश' शब्द का उल्लेख किया गया है।  
 (D) रामसे मैकडोनाल्ड ने कलेक्टर को संस्थागत करिश्मा कहा था।

68. High Court of Rajasthan was inaugurated by Rajpramukh Sawai Mansingh on -  
 (A) August 29<sup>th</sup>, 1949 (B) January 28<sup>th</sup>, 1950  
 (C) March 27<sup>th</sup>, 1951 (D) January 28<sup>th</sup>, 1952
69. Who among the following was not elected in Rajya Sabha elections 2022 in Rajasthan?  
 (A) Sh. Ghanshyam (B) Sh. Pramod kumar Tiwari  
 (C) Sh. Mukul Balkrishna Wasnik (D) Sh. Subhash Chandra
70. Which of the following pair is not correctly matched?  
 (A) 243 R – Mention of the composition of Municipal Corporations  
 (B) 243 S – Constitution and composition of Wards Committees  
 (C) 243 ZE – Composition of Metropolitan Planning Committee  
 (D) 243 ZC – Composition of District Planning Committee
71. Human Poverty Index (HPI) measures the deprivation as a composite index of -  
 (A) longevity, nutrition and knowledge  
 (B) knowledge, basic needs and standard of living  
 (C) longevity, knowledge and standard of living  
 (D) longevity, standard of living and sanitation
72. Planning Commission has been replaced by which of the given Institution?  
 (A) NITI Aayog  
 (B) Finance Commission of India  
 (C) Investment Commission of India  
 (D) National Development Council
73. Consider the following statements regarding the Goods and Services Tax Network (GSTN) –  
 (i) It is a non-government, private limited company.  
 (ii) It is a not for profit company.  
 Select the correct answer using the code given below -  
 (A) (i) only (B) (ii) only  
 (C) Both (i) and (ii) (D) Neither (i) nor (ii)
68. राजस्थान उच्च न्यायालय का उद्घाटन राजप्रमुख सवाई मानसिंह द्वारा..... में किया गया था।  
 (A) 29 अगस्त, 1949 (B) 28 जनवरी, 1950  
 (C) 27 मार्च, 1951 (D) 28 जनवरी, 1952
69. निम्नलिखित में से कौन, राजस्थान से राज्यसभा चुनाव 2022 में निर्वाचित नहीं हुआ था?  
 (A) श्री घनश्याम तिवारी (B) श्री प्रमोद कुमार  
 (C) श्री मुकुल बालकृष्ण (D) श्री सुभाष चन्द्रा वासनिक
70. निम्नलिखित में से कौनसा युग्म सुमेलित नहीं है?  
 (A) 243 R – नगर पालिकाओं की संरचना का उल्लेख  
 (B) 243 S – वार्ड समितियों का गठन व संरचना  
 (C) 243 ZE – महानगर योजना समिति का गठन  
 (D) 243 ZC – जिला योजना समिति का गठन
71. मानव गरीबी सूचकांक (एच.पी.आई.) वंचन को समग्र सूचकांक के रूप में मापता है –  
 (A) दीर्घायु, पोषण और ज्ञान  
 (B) ज्ञान, बुनियादी जरूरतें और जीवन स्तर  
 (C) दीर्घायु, ज्ञान और जीवन स्तर  
 (D) दीर्घायु, जीवन स्तर और स्वच्छता
72. योजना आयोग को, दिए गए संस्थान में से, किसके द्वारा प्रतिस्थापित किया गया है?  
 (A) नीति आयोग  
 (B) भारत का वित्त आयोग  
 (C) भारत का निवेश आयोग  
 (D) राष्ट्रीय विकास परिषद
73. माल और सेवा कर नेटवर्क (जी.एस.टी.एन.) के संबंध में निम्नलिखित कथनों पर विचार करें –  
 (i) यह एक गैर सरकारी, प्राइवेट लिमिटेड कंपनी है।  
 (ii) यह एक गैर लाभ कंपनी है।  
 नीचे दिए गये कूट का प्रयोग कर सही उत्तर चुनिए –  
 (A) केवल (i) (B) केवल (ii)  
 (C) दोनों (i) और (ii) (D) न तो (i) ना ही (ii)

74. Which one of the following is Not included in the Agriculture and Allied Services of Indian Economy?  
 (A) Forestry (B) Food Processing  
 (C) Fishery (D) Logging (trees)
75. An objective of the National Food Security Mission is to increase the production of certain crops, which are -  
 (A) rice, wheat, pulses and oil seeds  
 (B) rice and wheat  
 (C) rice, wheat, pulses, oil seeds and vegetables  
 (D) rice, wheat and pulses
76. Which country got the maximum export from India in the year 2021-22?  
 (A) China (B) USA  
 (C) UAE (D) Brazil
77. As per Census 2011, which state of India has the highest sex ratio?  
 (A) Kerala (B) Tamil Nadu  
 (C) Chhattisgarh (D) Andhra Pradesh
78. With reference to Indian Economy, consider the following -  
 (i) Public debt  
 (ii) Public revenue  
 (iii) Open market operations  
 (iv) Bank rate  
 Which of the above is/are component/s of Monetary Policy?  
 (A) (i) Only (B) (ii) Only  
 (C) (i), (ii) and (iii) (D) (iii) and (iv)
79. Fiscal Policy in India is formulated by -  
 (A) The Finance Ministry  
 (B) The Planning Commission  
 (C) The Securities and Exchange Board of India  
 (D) The Reserve Bank of India
80. What is not correct with respect to GSTIN?  
 (A) It is 15 digit and letter code.  
 (B) Its First 2 digits are the state code.  
 (C) It contains the PAN Card number of the individual or business.  
 (D) It is a 16 digit and letter code.
74. निम्नलिखित में से क्या भारतीय अर्थव्यवस्था की कृषि और संबद्ध सेवाओं में सम्मिलित नहीं है?  
 (A) वानिकी (B) खाद्य प्रसंस्करण  
 (C) मत्स्यन (D) कटाई (वृक्षों की)
75. राष्ट्रीय खाद्य सुरक्षा मिशन का एक उद्देश्य कुछ फसलों के उत्पादन में वृद्धि करना है, जो हैं -  
 (A) चावल, गेहूँ, दालें और तिलहन  
 (B) चावल और गेहूँ  
 (C) चावल, गेहूँ, दालें, तिलहन और सब्जियाँ  
 (D) चावल, गेहूँ और दालें
76. निम्नांकित में से किस देश ने वर्ष 2021-22 में भारत से सर्वाधिक निर्यात किए?  
 (A) चीन (B) यू.एस.ए.  
 (C) यू.ए.ई. (D) ब्राज़ील
77. जनगणना 2011 के अनुसार, भारत के किस राज्य का लिंगानुपात सर्वाधिक है?  
 (A) केरल (B) तमिलनाडु  
 (C) छत्तीसगढ़ (D) आंध्र प्रदेश
78. भारतीय अर्थव्यवस्था के संदर्भ में, निम्न पर विचार कीजिए -  
 (i) सार्वजनिक ऋण  
 (ii) सार्वजनिक राजस्व  
 (iii) खुले बाजार की क्रियाएं  
 (iv) बैंक दर  
 उपरोक्त में से कौन सा/से मौद्रिक नीति के घटक है/हैं?  
 (A) केवल (i) (B) केवल (ii)  
 (C) (i), (ii) और (iii) (D) (iii) और (iv)
79. भारत में राजकोषीय नीति किसके द्वारा तैयार की जाती है?  
 (A) वित्त मंत्रालय  
 (B) योजना आयोग  
 (C) भारतीय प्रतिभूति और विनिमय बोर्ड  
 (D) भारतीय रिज़र्व बैंक
80. जी.एस.टी. पहचान नम्बर के संबंध में क्या सही नहीं है?  
 (A) यह एक 15 अंक व अक्षरों का कोड है।  
 (B) इसके प्रथम 2 अंक राज्य का कोड होते हैं।  
 (C) इसमें व्यक्ति या व्यवसाय के पेन कार्ड नम्बर समाहित होते हैं।  
 (D) यह एक 16 अंक एवं अक्षरों का कोड है।

81. In which year 'Chief Minister Raj Neer Scheme' was declared in Rajasthan?  
 (A) 2019 (B) 2020  
 (C) 2021 (D) 2015
82. HPCL Rajasthan Refinery Ltd. is a joint venture between Hindustan Petroleum Corporation Limited (HPCL) and government of Rajasthan with an equity participations of -  
 (A) 72% and 28% (B) 68% and 32% respectively respectively  
 (C) 56% and 44% (D) 74% and 26% respectively respectively
83. At which level of Panchayati Raj a "Sathin" is selected as an 'Honorary Woman Worker' for women development programmes?  
 (A) Zila – Parishad (B) Panchayat – Samiti  
 (C) Block level (D) Gram – Panchayat
84. From which district of Rajasthan, the Heli-Borne survey technique for ground water management has been launched?  
 (A) Bharatpur (B) Jodhpur  
 (C) Kota (D) Jaipur
85. In Rajasthan the major districts of maize cultivation are -  
 (A) Baran, Jalore and Pratapgarh  
 (B) Chittorgarh, Banswara and Bundi  
 (C) Banswara, Pali and Sirohi  
 (D) Baran, Kota and Jhalawar
86. Where will the 'Khadi Plaza' be constructed by Rajasthan Khadi and Village Industries Board?  
 (A) Jodhpur (B) Jaipur  
 (C) Bikaner (D) Udaipur
87. Which of the following will get irrigation benefits from the Parvan Mega project?  
 (A) 535 villages of Bundi, Kota and Baran districts  
 (B) 637 villages of Jhalawar, Baran and Kota districts  
 (C) 637 villages of Jhalawar, Bundi and Kota districts  
 (D) 535 villages of Pratapgarh, Jhalawar and Kota districts
81. राजस्थान में 'मुख्यमंत्री राज नीर योजना' किस वर्ष में घोषित की गई?  
 (A) 2019 (B) 2020  
 (C) 2021 (D) 2015
82. एच.पी.सी.एल. राजस्थान रिफाइनरी लिमिटेड, हिन्दुस्तान पेट्रोलियम कॉर्पोरेशन लिमिटेड (एच.पी.सी.एल.) एवं राजस्थान सरकार के मध्य कितनी इक्विटी भागीदारी का संयुक्त उद्यम है?  
 (A) क्रमशः 72% एवं 28% (B) क्रमशः 68% एवं 32%  
 (C) क्रमशः 56% एवं 44% (D) क्रमशः 74% एवं 26%
83. पंचायती राज के किस स्तर पर एक "साथिन" का चयन महिला विकास कार्यक्रमों के लिए 'मानदेय महिला कार्यकर्ता' के रूप में किया जाता है?  
 (A) ज़िला-परिषद (B) पंचायत-समिति  
 (C) ब्लॉक स्तर (D) ग्राम-पंचायत
84. भूजल प्रबंधन के लिए, हेली-बोर्न सर्वेक्षण तकनीक का प्रारंभ राजस्थान के किस जिले में किया गया है?  
 (A) भरतपुर (B) जोधपुर  
 (C) कोटा (D) जयपुर
85. राजस्थान में मक्का की खेती के प्रमुख जिले हैं -  
 (A) बारां, जालौर और प्रतापगढ़  
 (B) चित्तौड़गढ़, बांसवाड़ा और बूंदी  
 (C) बांसवाड़ा, पाली और सिरोही  
 (D) बारां, कोटा और झालावाड़
86. राजस्थान खादी एवं ग्रामोद्योग बोर्ड द्वारा 'खादी प्लाजा' का निर्माण कहाँ किया जाएगा?  
 (A) जोधपुर (B) जयपुर  
 (C) बीकानेर (D) उदयपुर
87. निम्नांकित में से किन्हें परवन बृहद् परियोजना से सिंचाई सुविधा मिलेगी?  
 (A) बूंदी, कोटा और बारां जिलों के 535 गाँवों को  
 (B) झालावाड़, बारां और कोटा जिलों के 637 गाँवों को  
 (C) झालावाड़, बूंदी और कोटा जिलों के 637 गाँवों को  
 (D) प्रतापगढ़, झालावाड़ और कोटा जिलों के 535 गाँवों को

88. What is the sectoral contribution of the Gross State Value added by the industry sector in Rajasthan at the basic constant (2011-12) prices in the year 2021-22?  
 (A) 28.15% (B) 24.80%  
 (C) 26.34% (D) 32.20%
89. 'Utsav Bhoj Yojana' in Rajasthan is related to –  
 (A) Indira Rasoi Yojna (B) Food in Night Shelter  
 (C) Community Marriage Scheme (D) Mid-day Meal Yojana
90. Labour Bureau, Shimla releases Industrial Labour Consumer Price Index (Base year-2016) for which centers in Rajasthan from September-2020?  
 (A) Alwar, Bhilwara, Jaipur (B) Ajmer, Jaipur, Bhilwara  
 (C) Jaipur, Jodhpur, Bikaner (D) Alwar, Ajmer, Jaipur
91. Who among the following was honoured with the Nari Shakti Puraskar on International Women's Day 2022?  
 (A) Usha Sharma (B) Batool Begam  
 (C) Vasundhara Raje (D) Mamta Chouhan
92. Who among the following 'Padma Award – 2022' recipient is related to Rajasthan?  
 (A) Shakuntala Choudhary (B) Sheesh Ram  
 (C) Chandraprakash Dwivedi (D) Vandana Kataria
93. In which of these countries is the G-20 summit proposed for the year 2023?  
 (A) Indonesia (B) China  
 (C) Vietnam (D) India
94. Who was appointed as the new Chief Minister of Tripura in May 2022?  
 (A) Eknath Shinde (B) Biplab Kumar Deb  
 (C) Dr. Manik Saha (D) N. Biren Singh
95. In January 2022, Central Government's 'PM WANI Yojana' started in which district of Rajasthan?  
 (A) Jaipur (B) Sikar  
 (C) Jodhpur (D) Pratapgarh
88. वर्ष 2021-22 में राजस्थान में उद्योग क्षेत्र का स्थिर (2011-12) कीमतों पर सकल राज्य मूल्य वर्धन में क्षेत्रकीय योगदान क्या है?  
 (A) 28.15% (B) 24.80%  
 (C) 26.34% (D) 32.20%
89. राजस्थान में 'उत्सव भोज योजना' संबंधित है –  
 (A) इंदिरा रसोई योजना (B) रैन बसेरा में भोजन  
 (C) सामुदायिक विवाह (D) मिड-डे मील योजना योजना
90. श्रम ब्यूरो, शिमला, सितंबर-2020 से राजस्थान के किन केन्द्रों के लिए औद्योगिक श्रमिकों हेतु उपभोक्ता मूल्य सूचकांक (आधार वर्ष-2016) जारी करता है?  
 (A) अलवर, भीलवाड़ा, जयपुर (B) अजमेर, जयपुर, भीलवाड़ा  
 (C) जयपुर, जोधपुर, बीकानेर (D) अलवर, अजमेर, जयपुर
91. अंतर्राष्ट्रीय महिला दिवस – 2022 पर, नारी शक्ति पुरस्कार से निम्नलिखित में से, किसे सम्मानित किया गया है?  
 (A) ऊषा शर्मा (B) बतूल बेगम  
 (C) वसुंधरा राजे (D) ममता चौहान
92. 'पद्म पुरस्कार – 2022' के अधोलिखित प्राप्तकर्ताओं में कौन राजस्थान से संबंधित हैं?  
 (A) शकुन्तला चौधरी (B) शीश राम  
 (C) चन्द्रप्रकाश द्विवेदी (D) वन्दना कटारिया
93. वर्ष 2023 का जी-20 शिखर सम्मेलन निम्न में से किस देश में प्रस्तावित है?  
 (A) इण्डोनेशिया (B) चीन  
 (C) वियतनाम (D) भारत
94. मई 2022 में, त्रिपुरा के नए मुख्यमंत्री किसे नियुक्त किया गया?  
 (A) एकनाथ शिंदे (B) बिप्लब कुमार देब  
 (C) डॉ. माणिक साहा (D) एन. बीरेन सिंह
95. जनवरी 2022 को, केन्द्र सरकार की 'पी.एम. वाणी योजना' का शुभारंभ राजस्थान के किस जिले में किया गया?  
 (A) जयपुर (B) सीकर  
 (C) जोधपुर (D) प्रतापगढ़

96. The Ministry of Youth Affairs and Sports announced the Major Dhyana Chand Khel Ratna Award for the year 2022 to 'Achanta Sharath Kamal', he is related to which sports?  
 (A) Badminton (B) Chess  
 (C) Lawn tennis (D) Table tennis
97. Which is the rank of India in the recently released Global Hunger Index 2022?  
 (A) 102<sup>nd</sup> (B) 107<sup>th</sup>  
 (C) 109<sup>th</sup> (D) 110<sup>th</sup>
98. Which of the following Indus Valley Civilization site is included in UNESCO World Heritage list in July 2022?  
 (A) Balathal (B) Kalibanga  
 (C) Dholavira (D) Mohenjo-Daro
99. Which of the following cities will host the 2025 World Athletics Championships?  
 (A) Paris (B) Tokyo  
 (C) Shanghai (D) Budapest
100. There are a total of 75 Ramsar sites in India by August 2022, which state has the maximum number of Ramsar sites?  
 (A) Uttar Pradesh (B) Himachal Pradesh  
 (C) Tamil Nadu (D) Madhya Pradesh
101. Page fault occurs, when -  
 (A) the page is present in memory  
 (B) the deadlock occurs  
 (C) the page is not present in memory  
 (D) the buffering occurs
102. Which of the following statement is false?  
 (A) A digitizer is an output device.  
 (B) You may find pre-printed MICR characters on bank cheques.  
 (C) Trackball and Joystick are pointing devices like mouse.  
 (D) OCR stands for Optical Character Recognition.
96. युवा मामले और खेल मंत्रालय ने वर्ष 2022 का मेजर ध्यानचंद खेल रत्न पुरस्कार 'अचंता शरथ कमल' को देने की घोषणा की गई, इनका संबंध किस खेल से है?  
 (A) बैडमिंटन (B) शतरंज  
 (C) लॉन टेनिस (D) टेबल टेनिस
97. हाल ही में, जारी वैश्विक भूख सूचकांक 2022 में भारत का कौनसा स्थान रहा?  
 (A) 102वाँ (B) 107वाँ  
 (C) 109वाँ (D) 110वाँ
98. सिंधु घाटी सभ्यता के किस स्थल को जुलाई 2022 में यूनेस्को ने विश्व विरासत सूची में शामिल किया है?  
 (A) बालाथल (B) कालीबंगा  
 (C) धोलावीरा (D) मोहनजोदड़ो
99. 2025 विश्व एथलेटिक्स चैंपियनशिप्स की मेजबानी निम्न में से कौन सा शहर करेगा?  
 (A) पेरिस (B) टोक्यो  
 (C) शंघाई (D) बुडापेस्ट
100. अगस्त 2022 तक भारत में कुल 75 रामसर स्थल हैं, इनमें से सर्वाधिक रामसर स्थल किस राज्य से हैं?  
 (A) उत्तर प्रदेश (B) हिमाचल प्रदेश  
 (C) तमिलनाडु (D) मध्य प्रदेश
101. पेज फॉल्ट तब होता है, जब -  
 (A) पेज मेमोरी में मौजूद है  
 (B) डेडलॉक होता है  
 (C) पेज मेमोरी में मौजूद नहीं है  
 (D) बफ़रिंग होती है
102. निम्न में से कौन सा कथन असत्य है?  
 (A) डिजिटाइज़र एक आउटपुट युक्ति है।  
 (B) एक बैंक चैक पर आप पहले से छपे एम.आई.सी.आर. अक्षर पा सकते हैं।  
 (C) ट्रेकबॉल तथा जॉयस्टिक, माउस की तरह पॉइन्टिंग युक्तियां हैं।  
 (D) ओ.सी.आर. का अभिप्राय ऑप्टिकल कैरेक्टर रिकग्निशन है।

103. Consider following statements, in context of MS-Word – 2019 keys for moving around documents –  
 I : Pressing END takes you to the end of the document.  
 II : Pressing PgDn takes you down one screen.  
 III : Pressing Ctrl + Home takes you to the top of the document.  
 Which of the above statements are true?  
 (A) I and II (B) II and III  
 (C) I and III (D) I, II and III
104. Which command will be used to display the format cells dialog box in MS-Excel?  
 (A) Ctrl + F (B) Ctrl + 1  
 (C) Ctrl + 2 (D) Ctrl + D
105. Second generation computers were developed during -  
 (A) 1649 to 1670 (B) 1959 to 1965  
 (C) 1965 to 1970 (D) 1970 to 1990
106. Choose the set of true statements from the following –  
 (1) Vinegar is an aqueous solution of 5% - 8% acetic acid.  
 (2) Hydrolysis of fat gives glycerol and carboxylic acid.  
 (3) Teflon is used as solvent.  
 (4) The chemical formula of washing powder is  $\text{CaOCl}_2$ .  
 (A) 1, 2 (B) 2, 3  
 (C) 3, 4 (D) 1, 4
107. Read the following two statements –  
 I. Information and Communication Technology (ICT) is considered as a subset of Information Technology (IT).  
 II. The 'right to use' a piece of software is termed as copyright.  
 Which of the above mentioned statement(s) is/are correct?  
 (A) Both I and II (B) Neither I nor II  
 (C) II only (D) I only
103. डॉक्यूमेंट में एक स्थान से दूसरे स्थान जाने के लिए एम.एस. वर्ड – 2019 की कुंजियों के संदर्भ में निम्न कथनों पर विचार करें –  
 I : END दबाने पर आप डॉक्यूमेंट के अंत पर पहुँचा दिये जाते हैं।  
 II : PgDn दबाने पर आपको एक स्क्रीन नीचे पहुँचा दिया जाता है।  
 III : कन्ट्रोल + होम (Ctrl + Home) दबाने पर आपको डॉक्यूमेंट के शीर्ष पर पहुँचा दिया जाता है।  
 उपरोक्त में से कौन से कथन सत्य हैं?  
 (A) I तथा II (B) II तथा III  
 (C) I तथा III (D) I, II तथा III
104. MS-Excel में फॉर्मेट सेल्स डायलॉग बॉक्स प्रदर्शित करने के लिये किस कमांड का उपयोग करेंगे?  
 (A) Ctrl + F (B) Ctrl + 1  
 (C) Ctrl + 2 (D) Ctrl + D
105. द्वितीय जनन कम्प्यूटरों को किस दौरान विकसित किया गया था?  
 (A) 1649 से 1670 (B) 1959 से 1965  
 (C) 1965 से 1970 (D) 1970 से 1990
106. निम्नलिखित में से सत्य कथनों के समूह का चुनाव कीजिए –  
 (1) 5% - 8% एसिटिक अम्ल के जलीय विलयन को सिरका कहते हैं।  
 (2) वसा के जल अपघटन से ग्लिसरॉल और कार्बोक्सिलिक अम्ल प्राप्त होते हैं।  
 (3) टेफ्लॉन का उपयोग विलायक के रूप में किया जाता है।  
 (4)  $\text{CaOCl}_2$  वॉशिंग पाउडर का रासायनिक सूत्र है।  
 (A) 1, 2 (B) 2, 3  
 (C) 3, 4 (D) 1, 4
107. निम्नलिखित दो कथनों को पढ़े –  
 I. सूचना और संचार प्रौद्योगिकी (आई.सी.टी.) को सूचना प्रौद्योगिकी (आई.टी.) का सबसेट माना जाता है।  
 II. किसी सॉफ्टवेयर के 'उपयोग के अधिकार' को कॉपीराइट कहा जाता है।  
 उपर्युक्त में से कौन सा/से कथन सही है/हैं?  
 (A) I और II दोनों (B) न तो I और ना ही II  
 (C) केवल II (D) केवल I



108. The resistance of a copper wire 200m long is  $21\Omega$ . If its thickness (diameter) is 0.44 mm, its specific resistance is around -  
 (A)  $1.6 \times 10^{-8} \Omega\text{-m}$  (B)  $1.2 \times 10^{-8} \Omega\text{-m}$   
 (C)  $1.4 \times 10^{-8} \Omega\text{-m}$  (D)  $1.8 \times 10^{-8} \Omega\text{-m}$
109. .... is an example of physical change.  
 (A) Burning of candle  
 (B) Making of curd from milk  
 (C) Blackening of silverware  
 (D) Dissolving of sugar in water
110. Which of the given enzymes is responsible for the digestion of milk protein?  
 (A) Rennin (B) Pepsin  
 (C) Trypsin (D) Erepsin
111. Apis florea is related to which of the following?  
 (A) Honey Bee (B) Silk worm  
 (C) Lac insect (D) Termite
112. Which one of the following is a viral disease in animals?  
 (A) Blue tongue disease (B) Milk fever  
 (C) Anthrax (D) Johne's disease
113. Match List-I with List-II and select the correct answer by using the code given below -
- | List - I            | List - II         |
|---------------------|-------------------|
| (a) Hydrogen bomb   | (1) Fission       |
| (b) Atom bomb       | (2) Fusion        |
| (c) Binding energy  | (3) Critical mass |
| (d) Nuclear reactor | (4) Mass defect   |
- Code -  
 (A) (a) - (1), (b) - (2), (c) - (4), (d) - (3)  
 (B) (a) - (1), (b) - (2), (c) - (3), (d) - (4)  
 (C) (a) - (2), (b) - (1), (c) - (4), (d) - (3)  
 (D) (a) - (2), (b) - (1), (c) - (3), (d) - (4)
108. 200 मीटर लंबे तांबे के तार का प्रतिरोध  $21 \Omega$  है। यदि इसकी मोटाई (व्यास) 0.44 मि.मी. है, तो इसका विशिष्ट प्रतिरोध आसपास है -  
 (A)  $1.6 \times 10^{-8} \Omega\text{-m}$  (B)  $1.2 \times 10^{-8} \Omega\text{-m}$   
 (C)  $1.4 \times 10^{-8} \Omega\text{-m}$  (D)  $1.8 \times 10^{-8} \Omega\text{-m}$
109. .... भौतिक परिवर्तन का एक उदाहरण है।  
 (A) मोमबत्ती का जलना  
 (B) दूध से दही बनना  
 (C) चांदी के बर्तनों का काला पड़ना  
 (D) चीनी का पानी में घुलना
110. दूध प्रोटीन के पाचन के लिए दिए गए एंजाइमों में से कौन-सा जिम्मेदार है?  
 (A) रेनिन (B) पेप्सिन  
 (C) ट्रिप्सिन (D) एरेप्सिन
111. एपिस फ्लोरिया निम्नलिखित में से किससे सम्बन्धित है?  
 (A) मधुमक्खी (B) रेशम कीट  
 (C) लाख कीट (D) दीमक
112. निम्नलिखित में से कौन सा एक पशुओं में वायरल रोग है?  
 (A) नीली जिह्वा रोग (B) मिल्क फीवर  
 (C) एन्थ्रैक्स (D) जॉन रोग
113. सूची-I को सूची-II से सुमेलित कीजिए और नीचे दिए गए कूट का उपयोग कर सही उत्तर चुनिए -
- | सूची - I         | सूची - II               |
|------------------|-------------------------|
| (a) हाइड्रोजन बम | (1) विखण्डन             |
| (b) परमाणु बम    | (2) संलयन               |
| (c) बंधन ऊर्जा   | (3) क्रान्तिक द्रव्यमान |
| (d) परमाणु भट्टी | (4) द्रव्यमान क्षति     |
- कूट -  
 (A) (a) - (1), (b) - (2), (c) - (4), (d) - (3)  
 (B) (a) - (1), (b) - (2), (c) - (3), (d) - (4)  
 (C) (a) - (2), (b) - (1), (c) - (4), (d) - (3)  
 (D) (a) - (2), (b) - (1), (c) - (3), (d) - (4)

114. What is formed in the reaction of sodium hydroxide with zinc?  
 (A) Zinc hydroxide and hydroxide gas  
 (B) Zinc hydroxide and sodium  
 (C) Sodium Zincate and hydrogen gas  
 (D) Sodium Zincate and water
115. What is the percentage of Photosynthetically Active Radiation (PAR) that is captured by the plants?  
 (A) 2-5% (B) 2-15%  
 (C) 5-10% (D) 2-10%
116. If Sohan, while selling two goats at the same price, makes a profit of 10% on one goat and suffers a loss of 10% on the other, then which of the following is true?  
 (A) He makes no profit and no loss  
 (B) He makes a profit of 1%  
 (C) He suffers a loss of 1%  
 (D) He suffers a loss of 2%
117. Average of all even numbers between 320 and 350 is -  
 (A) 335 (B) 332  
 (C) 330 (D) 325
118. Area of a rectangular field is 300 sq. meter. If length of its diagonal is 25 meter, then the perimeter of this field is -  
 (A) 70 meter (B) 80 meter  
 (C) 90 meter (D) 84 meter
119. If the simple interest for 5 years be equal to 20% of the principal amount, then it will be equal to the principal amount -  
 (A) in 25 years (B) in 20 years  
 (C) in 15 years (D) in 10 years
114. जिंक के साथ सोडियम हाइड्रॉक्साइड की अभिक्रिया से क्या बनता है?  
 (A) जिंक हाइड्रॉक्साइड और हाइड्रॉक्साइड गैस  
 (B) जिंक हाइड्रॉक्साइड और सोडियम  
 (C) सोडियम जिंकेट और हाइड्रोजन गैस  
 (D) सोडियम जिंकेट और पानी
115. प्रकाशसंश्लेषी रूप से सक्रिय विकिरण (पी.ए.आर.) का कितना प्रतिशत पौधों द्वारा ग्रहण किया जाता है?  
 (A) 2-5% (B) 2-15%  
 (C) 5-10% (D) 2-10%
116. यदि सोहन, दो बकरियों को समान मूल्य पर बेचकर, एक बकरी पर 10% का लाभ कमाता है और दूसरी पर 10% की हानि भुगतता है, तो निम्न में से कौनसा सत्य है?  
 (A) वह न तो लाभ कमाता है ना ही हानि  
 (B) वह 1% का लाभ कमाता है  
 (C) उसे 1% की हानि होती है  
 (D) उसे 2% की हानि होती है
117. 320 तथा 350 के मध्य की सभी सम संख्याओं का औसत है -  
 (A) 335 (B) 332  
 (C) 330 (D) 325
118. एक आयताकार मैदान का क्षेत्रफल 300 वर्ग मीटर है यदि विकर्ण की माप 25 मीटर हो, तो मैदान का परिमाप है -  
 (A) 70 मीटर (B) 80 मीटर  
 (C) 90 मीटर (D) 84 मीटर
119. यदि 5 वर्ष का साधारण ब्याज, मूलधन के 20% के बराबर है, तो यह मूलधन के बराबर हो जाएगा -  
 (A) 25 वर्षों में (B) 20 वर्षों में  
 (C) 15 वर्षों में (D) 10 वर्षों में

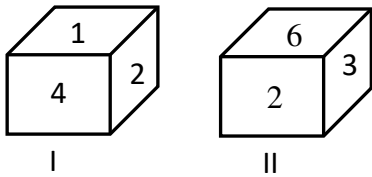
120. If the income of x is 10% more than that of y and the income of y is 20% less than that of z, then the income of x, y and z respectively are in the ratio -

- (A) 10:9:7 (B) 11:10:8  
(C) 22:20:25 (D) 22:18:25

121. In a certain code language, "479" means "fruit is sweet", "248" means "very sweet voice" and "637" means "eat fruit daily". Code for "is" is equal to -

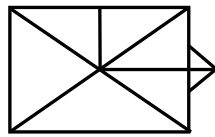
- (A) 4 (B) 7  
(C) 9 (D) 6

122. Two different positions of a die is shown below. Which number will appear on the face opposite to 5?



- (A) 1 (B) 2  
(C) 3 (D) 6

123. How many triangles are there in the given figure?



- (A) 14 (B) 15  
(C) 16 (D) 17

124. 'A' walks 10 m towards East and then 10 m to his right. Then every time turning to his left, he walks 5, 15 and 15 m respectively. How far is he now from his starting point?

- (A) 10m (B) 15m  
(C) 20m (D) 5m

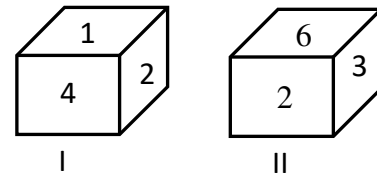
120. यदि x की आय, y की आय से 10% अधिक है तथा y की आय, z की आय से 20% कम है, तो x, y तथा z की आनुपातिक आय क्रमशः है -

- (A) 10:9:7 (B) 11:10:8  
(C) 22:20:25 (D) 22:18:25

121. एक निश्चित कूट भाषा में "479" का अर्थ "fruit is sweet" है, "248" का अर्थ "very sweet voice" है और "637" का अर्थ "eat fruit daily" है। "is" का कूट बराबर है -

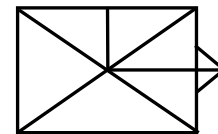
- (A) 4 (B) 7  
(C) 9 (D) 6

122. एक पासे की दो विभिन्न स्थितियाँ नीचे दिखाई गई हैं। 5 के विपरीत फलक पर कौन - सा अंक दिखाई देगा?



- (A) 1 (B) 2  
(C) 3 (D) 6

123. दी गई आकृति में कितने त्रिभुज हैं?



- (A) 14 (B) 15  
(C) 16 (D) 17

124. 'A' 10 मीटर पूर्व की ओर चलता है और फिर 10 मीटर अपने दायीं ओर जाता है। फिर हर बार अपनी बायीं ओर मुड़कर, वह क्रमशः 5, 15 और 15 मीटर चलता है। अब वह अपने प्रारंभिक स्थान से कितनी दूरी पर है?

- (A) 10 मी. (B) 15 मी.  
(C) 20 मी. (D) 5 मी.

125. A, B, C, D, E and F are sitting in a row. E and F are in the centre, A and B are at the ends, C is sitting on the left of A. Who is sitting on the right of B?  
 (A) D (B) F  
 (C) E (D) A
126. If 'CEG' is written as 'TSR' and 'FHJ' is written as 'QPO', then 'IKM' is written as -  
 (A) NOL (B) NOM  
 (C) NML (D) MLN
127. Umang said to Uma – "You are wife of the grandson of my mother". Who is Umang to Uma?  
 (A) Father (B) Husband  
 (C) Father-in-law (D) Grandfather
128. Here, a statement is followed by two arguments I and II are given. You have to decide which of the argument/arguments is/are a 'strong' argument and which is a 'weak' argument.  
**Statement** : Should income tax be evaded by people?  
**Arguments** : I. Yes, Taxes are excessively high.  
 II. No, it will hamper the welfare programmes.  
 (A) If only argument I is strong  
 (B) If only argument II is strong  
 (C) If both I and II are strong  
 (D) if neither I nor II is strong
129. The next term of the following number series is -  
 2, 12, 36, 80, 150, .... ?  
 (A) 210 (B) 252  
 (C) 258 (D) 270
130. If (+) means ( $\times$ ), ( $\div$ ) means (+), ( $\times$ ) means (-) and (-) means ( $\div$ ), then the value of  $124 \div 32 - 8 + 2 \times 11$  is equal to -  
 (A) 120 (B) 121  
 (C) 132 (D) 144
125. A, B, C, D, E और F एक पंक्ति में बैठे हुये हैं। E और F केन्द्र (मध्य) में बैठे हैं, A और B छोरों पर बैठे हैं, C, A के बायीं ओर बैठा है। B के दायीं ओर कौन बैठा हुआ है?  
 (A) D (B) F  
 (C) E (D) A
126. यदि 'CEG' को 'TSR' एवं 'FHJ' को 'QPO' लिखा जाता है, तो 'IKM' को किस प्रकार लिखा जायेगा?  
 (A) NOL (B) NOM  
 (C) NML (D) MLN
127. उमंग ने उमा को कहा – "तुम मेरी माता के पौत्र की पत्नी हो।" उमंग का उमा से क्या संबंध है?  
 (A) पिता (B) पति  
 (C) ससुर (D) दादा
128. यहाँ, एक कथन के पश्चात् दो तर्क I तथा II दिये हैं। आपको निश्चित करना है कि कौनसा/कौनसे तर्क मजबूत हैं तथा कौनसा तर्क कमजोर है।  
**कथन** : क्या लोगों द्वारा आयकर को टाल देना चाहिए?  
**तर्क** : I. हाँ, कर अत्यधिक उच्च हैं।  
 II. नहीं, यह कल्याण कार्यक्रमों को बाधित करेगा।  
 (A) यदि केवल तर्क I मजबूत है  
 (B) यदि केवल तर्क II मजबूत है  
 (C) यदि दोनों I तथा II मजबूत हैं  
 (D) यदि न तो I ना ही II मजबूत है
129. निम्नलिखित संख्या श्रेणी का अगला पद है -  
 2, 12, 36, 80, 150, .... ?  
 (A) 210 (B) 252  
 (C) 258 (D) 270
130. यदि (+) का अर्थ ( $\times$ ), ( $\div$ ) का अर्थ (+), ( $\times$ ) का अर्थ (-) और (-) का अर्थ ( $\div$ ) है, तो  $124 \div 32 - 8 + 2 \times 11$  का मान बराबर है -  
 (A) 120 (B) 121  
 (C) 132 (D) 144

131. किस विकल्प के शब्द दो से अधिक उपसर्गों से निर्मित हैं?
- (A) अध्यापक, पारितोषिक (B) प्राचार्य, सहानुभूति  
(C) दुरध्यवसाय, समुदाहरण (D) प्रतिवाद, अज्ञानता
132. संधि की दृष्टि से संगत विकल्प का चयन कीजिए –
- (A) विधे + इका = विधायिका (B) स्त्री + उचित = स्त्रीयोचित  
(C) गुरु + उपदेश = गुरुपदेश (D) अधः + पतन = अधःपतन
133. सुमेलित कीजिए –
- (i) मूल स्वर (क) ख, छ, फ, स  
(ii) दीर्घ स्वर (ख) आ, ई, ऊ, ऐ  
(iii) अल्पप्राण व्यंजन (ग) अ, इ, उ, ऋ  
(iv) अघोष व्यंजन (घ) य, र, ल, व
- (A) (i)–(ख), (ii)–(ग), (iii)–(घ), (iv)–(क) (B) (i)–(क), (ii)–(ख), (iii)–(ग), (iv)–(घ)  
(C) (i)–(ग), (ii)–(ख), (iii)–(घ), (iv)–(क) (D) (i)–(क), (ii)–(ख), (iii)–(घ), (iv)–(ग)
134. अशुद्ध वाक्य का चयन कीजिए –
- (A) देश शहीदों का सदा आभारी रहेगा। (B) थोड़े समय बाद छात्र वापस लौट आए।  
(C) कृष्ण ने कंस का वध किया। (D) यह कार्य कैसे संभव है?
135. किस विकल्प के सभी शब्द 'अर्जुन' के पर्यायवाची हैं?
- (A) धनंजय, पार्थ, कौन्तेय (B) माधव, केशव, पीताम्बर  
(C) अर्णव, उदधि, नदीश (D) रजनी, यामिनी, निशि
136. समास – विग्रह की दृष्टि से असंगत विकल्प चुनिए –
- (A) देशाटन – देश में अटन (B) जीवनभर – पूरे जीवन  
(C) लाजवाब – ज़वाब के साथ (D) भोजनार्थ – भोजन के लिए
137. 'अल्पविराम' चिन्ह के प्रयोग के संबंध में कौन-सा कथन असंगत है?
- (A) भावातिरेक में शब्दों पर बल देने के लिए।  
(B) उपवाक्यों को अलग करने के लिए।  
(C) किसी तथ्य को स्पष्ट करने का संकेत करने के लिए।  
(D) अभिवादन, समापन, पता, दिनांक आदि में सम्मान सूचक अभिवादन के बाद में।
138. किस विकल्प में उचित विलोम युग्म का प्रयोग हुआ है?
- (A) जटिल – कुटिल (B) कर्कश – मधुर  
(C) संधि – समास (D) अनिवार्य – आवश्यक
139. सार्वनामिक विशेषण का प्रयोग किस विकल्प में हुआ है?
- (A) थोड़ा घी लेकर आइए। (B) किताब के कुछ पृष्ठ शेष हैं।  
(C) वह घर अभी बना है। (D) साठ लोग समारोह में आ रहे हैं।
140. निम्न में से किस वाक्य में सजातीय क्रिया का प्रयोग हुआ है?
- (A) सूखे पत्ते हवा में उड़ रहे हैं। (B) टहलना स्वास्थ्य के लिए अच्छा है।  
(C) मातृभूमि के लिए मरना श्रेष्ठ है। (D) पुलिस ने चोर को बड़ी मार मारी।

**Direction (141 to 143) :** Read the passage carefully and answer the following questions –

But before I could be inspired by these amazing people, I had to cleanse my feed. I know my weaknesses: just last week, Facebook memories reminded me of a pizza party I'd had two years ago and I ended up ordering a chicken dominator, with garlic breadsticks and an jalapeno cheese dip. So much for Day One of Couch to 5K training. I stayed right on that couch. So far I've unfollowed BuzzFeed Tasty, TasteMade (even their adorable Tiny Kitchen) and several people who have the enviable advantage of being able to eat as much as they want and not put on weight. By my calculations, dark chocolate is healthy. So I'm still following Earth Loaf. Pascati and Mason & Co.

When I finally found a gym I liked with the best trainers I have had, I unabashedly shared my workouts every day. From shying away from full-length pictures, I reached a point where I could share videos of myself deadlifting and doing back squats with a barbell across my shoulders. It gave me accountability.

141. Which of the following is a page related to chocolate?
- (A) Earth Loaf (B) TasteMade  
(C) BuzzFeed Tasty (D) Tiny Kitchen
142. Which of the following word in the passage means 'very desirable'?
- (A) inspired (B) enviable  
(C) adorable (D) cleanse
143. The word with the meaning opposite to 'shamefully' in the passage is -
- (A) shying (B) enviable  
(C) weaknesses (D) unabashedly
144. Choose the alternative which best expresses the meaning of the underlined idiom/ phrase –  
The winning team decided to go for the jugular in the last quarter of the match.
- (A) forfeit the match (B) attack all out  
(C) give reserve players a chance (D) give easy opportunities to the opposite team
145. What is 'Pseudonym' in letter writing?
- (A) Name of the Editor (B) Legal name  
(C) Fictitious name (D) Real name



146. Fill in the blank space with the correct determiner –

..... friends he has are sincere.

- (A) The little (B) None  
(C) The few (D) Much

147. Match the sentences in the Column (A) with appropriate prepositions in Column (B) –

Column (A)

Column (B)

(Sentences)

(Prepositions)

(a) The train met ..... an accident.

(i) for

(b) Such an idea would never occur ..... me.

(ii) in

(c) He has been in this office ..... a year.

(iii) with

(d) Wise people do not believe ..... superstitions.

(iv) to

(A) (a) – (iii), (b) – (iv), (c) – (i), (d) – (ii) (B) (a) – (ii), (b) – (iii), (c) – (iv), (d) – (i)

(C) (a) – (i), (b) – (ii), (c) – (iii), (d) – (iv) (D) (a) – (iv), (b) – (i), (c) – (iii), (d) – (ii)

148. Fill in the blank space with the correct phrasal verb from the given options –

The meeting was ..... because of bad weather.

- (A) called back (B) called off  
(C) call back (D) called in



149. Choose the correct English translation of the given sentence –

मैं अपने कमरे में प्रवेश करने से पहले अपने जूते और मोजे उतार देता हूँ।

- (A) I take out my shoes and socks before I enter my room.  
(B) I take off my shoes and socks while entering my room.  
(C) I take off my shoes and socks before entering my room.  
(D) I take out my shoes and socks at the time of entering my room.

150. Choose the most appropriate option –

Ashin said, "Shall I ever win a gold medal?" (Change into Indirect Speech)

- (A) Ashin asked if he shall ever have won a gold medal.  
(B) Ashin said that shall he ever won a gold medal.  
(C) Ashin exclaimed if he shall ever win a gold medal.  
(D) Ashin wondered if he would ever win a gold medal.

Space for Rough Work/ रफ कार्य के लिए जगह



---

उत्तर पत्रक में दो प्रतियाँ हैं – मूल प्रति और द्वितीय प्रति, परीक्षा समाप्ति पर परीक्षा कक्ष छोड़ने से पूर्व परीक्षार्थी उत्तर पत्रक के दोनों प्रतियाँ वीक्षक को सौंपेंगे, परीक्षार्थी स्वयं द्वितीय प्रति को अलग नहीं करें। वीक्षक द्वारा उत्तर पत्रक की मूल प्रति को अपने पास जमा कर, द्वितीय प्रति को मूल प्रति से कट लाईन से मोड़ कर सावधानीपूर्वक अलग कर परीक्षार्थी को सौंपेंगे। परीक्षार्थी द्वितीय प्रति को अपने साथ ले जायें।